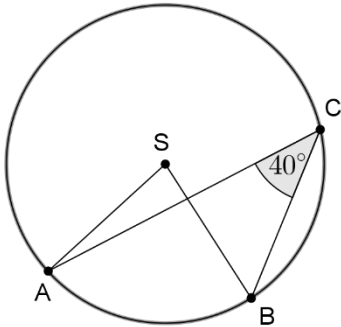
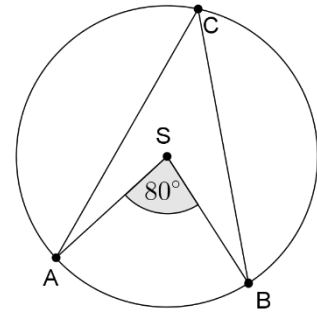


Središnji i obodni kut- radni listić

1. a) Odredi mjeru kuta $\sphericalangle ACB$.

b) Kut $\sphericalangle ACB$ je obodni kut nad kružnim lukom _____ .



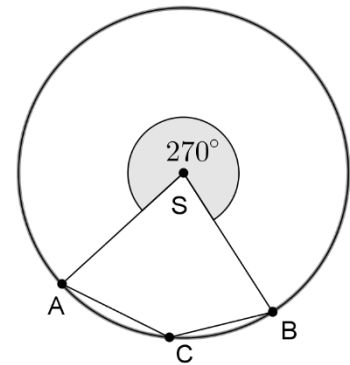
2. a) Odredi mjeru kuta $\sphericalangle ASB$.

b) Kut $\sphericalangle ASB$ je _____ kut nad kružnim lukom _____ .

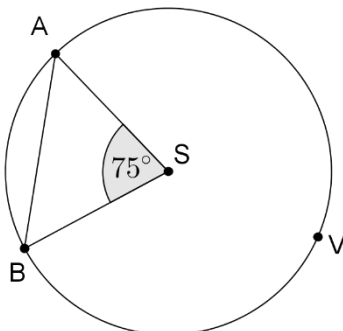
3. a) Odredi mjeru kuta $\sphericalangle ASB$.

b) Odredi mjeru kuta $\sphericalangle BCA$.

c) Kut $\sphericalangle BSA$ je središnji kut nad kružnim lukom _____ .



4. Pod kojim se kutem iz točke V vidi tetiva \overline{AB} ?



5. a) Pod kojim se kutem iz točke C vidi tetiva \overline{AB} ?

b) Pod kojim se kutem iz točke D vidi tetiva \overline{AB} ?

