



Domaća zadaća, prvi razredi


Označi na lenti vremena trajanje **novog vijeka!**




Označi na lenti vremena trajanje **neolitika!**



Označi na lenti vremene trajanje **petog stoljeća prije Krista!**



Označi na lenti vremene **1492. g. i 31.g pr.Kr.!**



Koliko godina je prošlo između **31.g.i 1498.g.pr.Kr.** _____
Pokaži postupak!

Kojem stoljeću i tisućljeću pripadaju sljedeće godine!

1011.g.pr.Kr. ----- st., ----- t.
221. g. ----- st., ----- t.
1350.g ----- st., ----- t.
3501.g.pr.Kr. ----- st., ----- t.

Napiši **primjere godina (po jednu za svako stoljeće) za:**

11.st _____; 16.st. pr.Kr. _____

Što je duže trajalo, paleolitik ili srednji vijek? _____(bez postupka odgovor neće biti priznat)

Pokaži postupak→